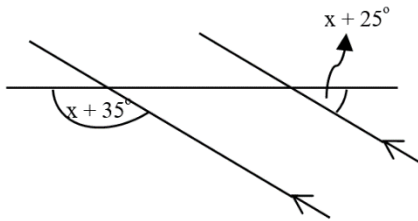


แบบทดสอบ เรื่อง เส้นขนาน จำนวน 20 ข้อ

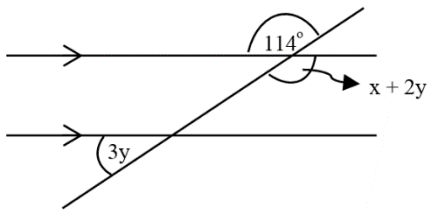
1.



จงหาค่า x

- ก) 56°
- ข) 60°
- ค) 63°
- ง) 78°

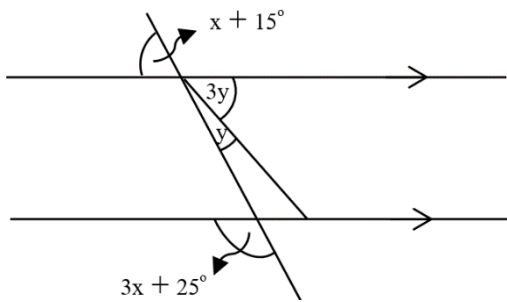
2.



จงหาค่า x

- ก) 68°
- ข) 70°
- ค) 74°
- ง) 78°

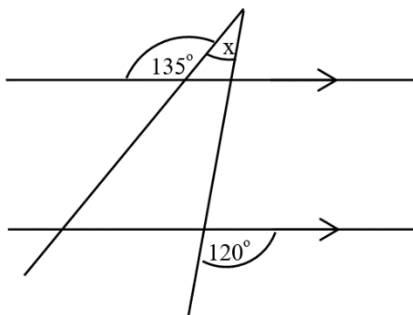
3.



จงหาค่าของ $x + y$

- ก) 40.4°
- ข) 45°
- ค) 47.5°
- ง) 50.75°

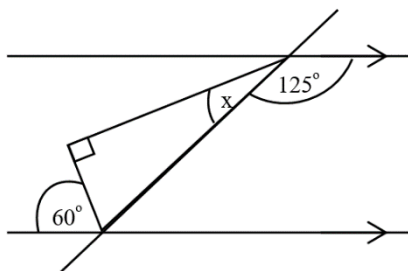
4.



จงหาค่า x

- ก) 12°
- ข) 15°
- ค) 18°
- ง) 20°

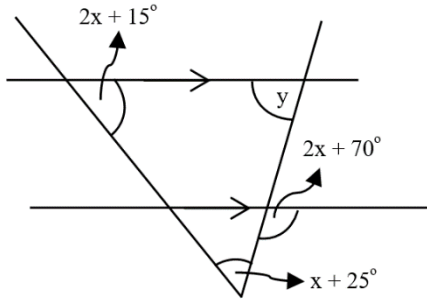
5.



จงหาค่า x

- ก) 18°
- ข) 22°
- ค) 25°
- ง) 30°

6.



จงหาค่า $x + y$

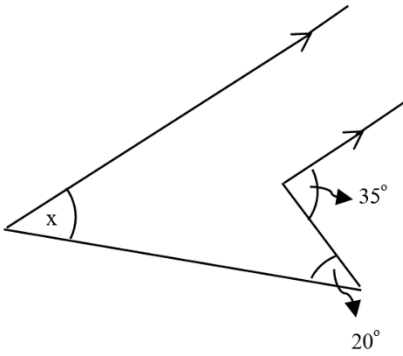
ก) 65°

ข) 70°

ค) 75°

ง) 80°

7.



จงหาค่า x

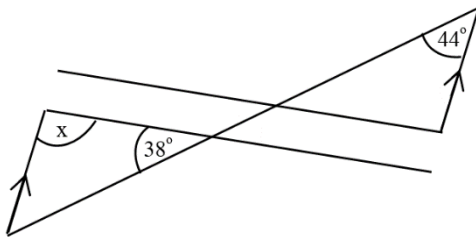
ก) 15°

ข) 18°

ค) 24°

ง) 26°

8.



จงหาค่า x

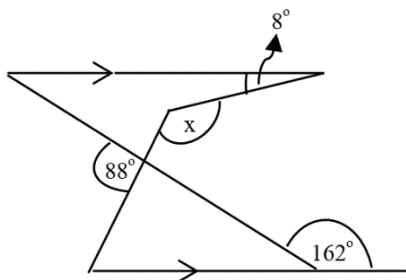
ก) 88°

ข) 98°

ค) 100°

ง) 108°

9.



จงหาค่า x

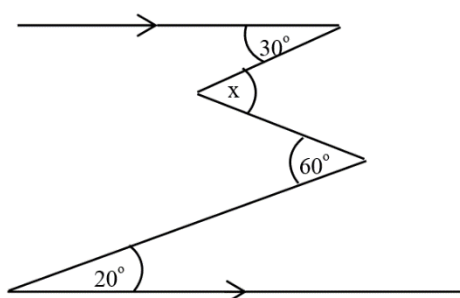
ก) 98°

ข) 100°

ค) 118°

ง) 122°

10.



จงหาค่า x

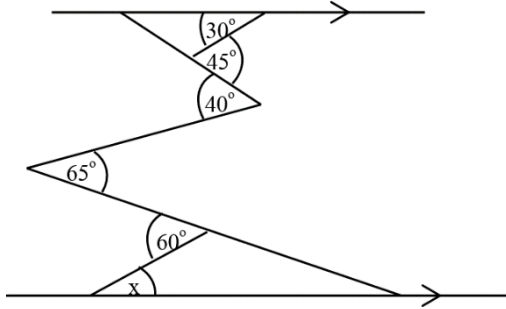
ก) 70°

ข) 74°

ค) 80°

ง) 88°

11.



จงหาค่า x

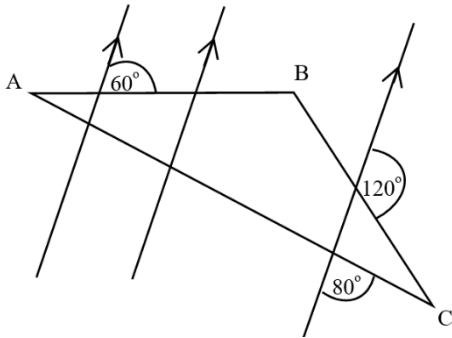
ก) 16°

ข) 18°

ค) 20°

ง) 22°

12.



จงหาค่า $\hat{A} + \hat{C}$

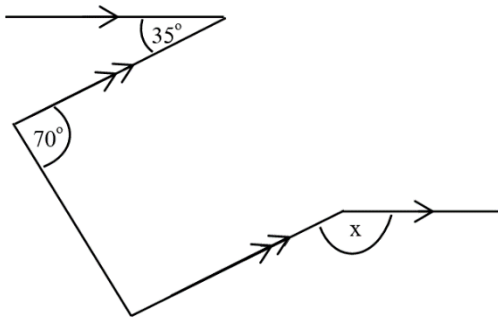
ก) 130°

ข) 125°

ค) 120°

ง) 115°

13.



จงหาค่า x

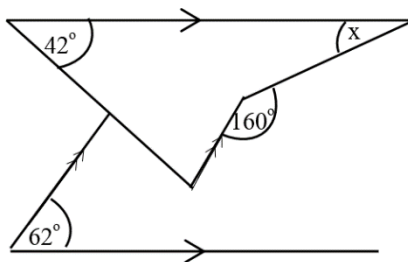
ก) 145°

ข) 150°

ค) 155°

ง) 160°

14.



จงหาค่า x

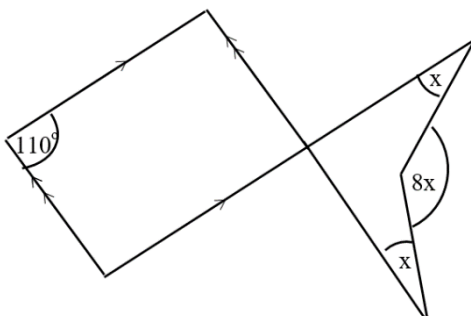
ก) 36°

ข) 38°

ค) 40°

ง) 42°

15.



จงหาค่า x

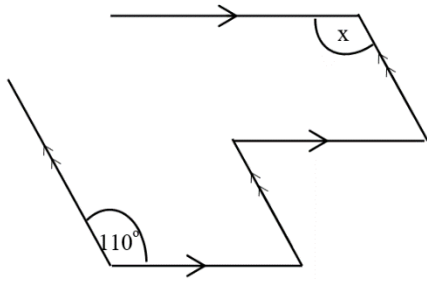
ก) $12\frac{1}{4}^\circ$

ข) $16\frac{1}{2}^\circ$

ค) $18\frac{1}{3}^\circ$

ง) 22°

16.



จงหาค่า x

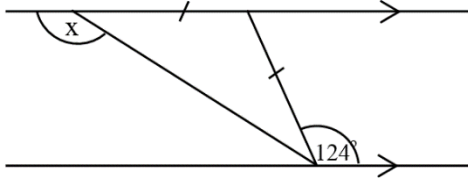
ก) 130°

ข) 125°

ค) 118°

ง) 110°

17.



จงหาค่า x

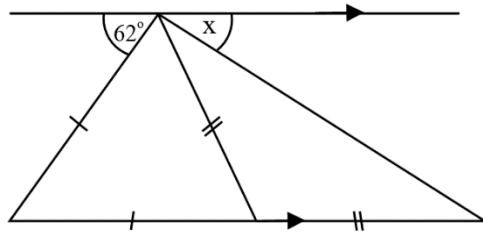
ก) 128°

ข) 130°

ค) 148°

ง) 152°

18.



จงหาค่าของ x

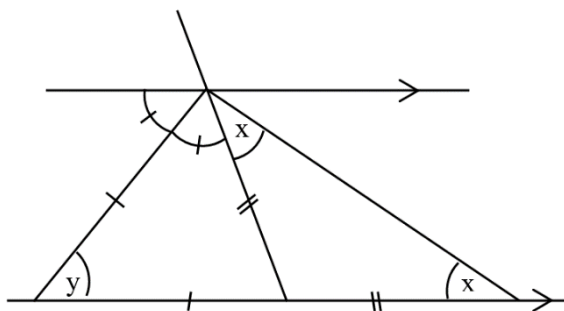
ก) 29.5°

ข) 30°

ค) 32.5°

ง) 38.5°

19.



จงหาค่า $y - x$

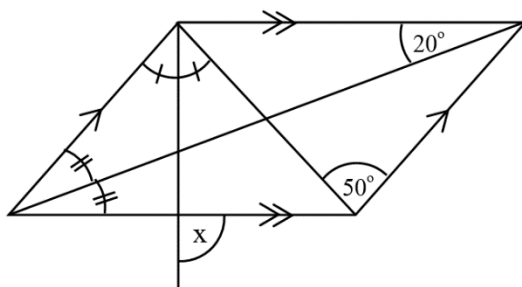
ก) 48°

ข) 40°

ค) 38°

ง) 30°

20.



จงหาค่า x

ก) 115°

ข) 110°

ค) 95°

ง) 90°

เฉลย แบบทดสอบ เรื่อง เส้นขนาน จำนวน 20 ข้อ

ข้อที่	เฉลย	ข้อที่	เฉลย
1.	ข	11.	ค
2.	ข	12.	ค
3.	ค	13.	ก
4.	ข	14.	ง
5.	ค	15.	ค
6.	ง	16.	ง
7.	ก	17.	ง
8.	ข	18.	ก
9.	ค	19.	ง
10.	ก	20.	ก

ajnunnu.com

